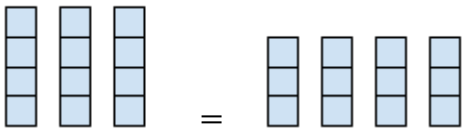


# みかん先生のかていきょうし かけ算のきまり

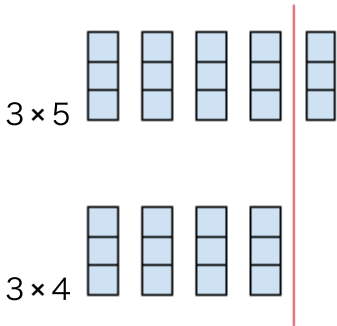


【1】 かけ算をくらべて、( ) にあてはまる数を書きましょう。

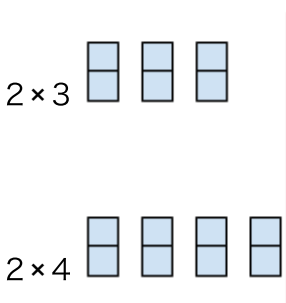
①  $4 \times 3 = 3 \times ( 4 )$



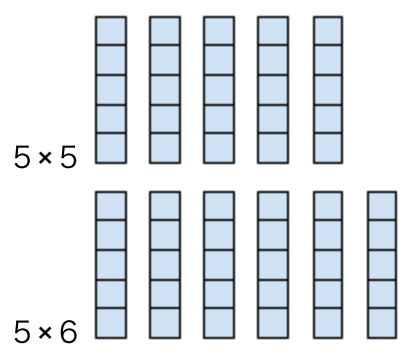
②  $3 \times 5$  は、 $3 \times 4$  より ( 3 ) 大きい



③  $2 \times 3$  は、 $2 \times 4$  より ( 2 ) 小さい

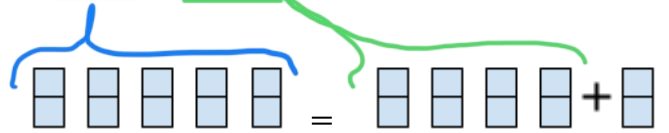


④  $5 \times 5$  は、 $5 \times 6$  より ( 5 ) 小さい

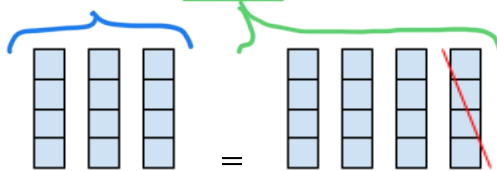


【2】 つぎの式を見て、( ) にあてはまる数を書きましょう。

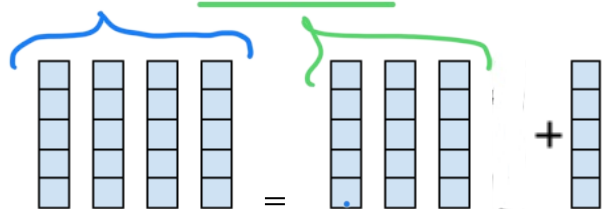
①  $2 \times 5 = 2 \times 4 + ( 2 )$



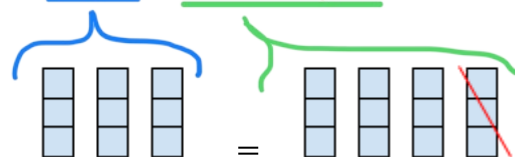
②  $4 \times 3 = 4 \times 4 - ( 4 )$



③  $5 \times 4 = 5 \times ( 3 ) + 5$



④  $3 \times 3 = 3 \times ( 4 ) - 3$



【3】 かけ算を分けて考え、( ) にあてはまる数を考えよう。

①  $6 \times 8$  を分けて計算

$$\begin{array}{r}
 \begin{array}{l}
 \rightarrow 2 \quad \times 8 = (16) \\
 \rightarrow (4) \quad \times 8 = (32)
 \end{array} \\
 \hline
 \text{あわせて } (48)
 \end{array}$$

②  $4 \times 9$  を分けて計算

$$\begin{array}{r}
 \begin{array}{l}
 \rightarrow 3 \quad = (12) \\
 \rightarrow (6) \quad = (24)
 \end{array} \\
 \hline
 \text{あわせて } (36)
 \end{array}$$

③  $7 \times 9$  を分けて計算

$$\begin{array}{r}
 \begin{array}{l}
 \rightarrow 3 \quad \times 9 = (27) \\
 \rightarrow (4) \quad \times 9 = (36)
 \end{array} \\
 \hline
 \text{あわせて } (63)
 \end{array}$$

【4】 かけ算を分けて考え、( ) にあてはまる数を考えよう。

①  $12 \times 4$  を分けて計算

$$\begin{array}{r}
 \begin{array}{l}
 \rightarrow 5 \quad \times 4 = (20) \\
 \rightarrow (7) \quad \times 4 = (28)
 \end{array} \\
 \hline
 \text{あわせて } (48)
 \end{array}$$

②  $15 \times 9$  を分けて計算

$$\begin{array}{r}
 \begin{array}{l}
 \rightarrow 6 \quad \times 9 = (54) \\
 \rightarrow (9) \quad \times 9 = (81)
 \end{array} \\
 \hline
 \text{あわせて } (135)
 \end{array}$$

【5】計算をしましょう。

①  $0 \times 3 = 0$

②  $0 \times 8 = 0$

③  $10 \times 0 = 0$

④  $5 \times 0 = 0$

⑤  $0 \times 0 = 0$

⑥  $1 \times 8 = 8$

⑦  $4 \times 0 = 0$

⑧  $1 \times 1 = 1$

【6】計算をしましょう。

①  $10 \times 3 = 30$

②  $10 \times 5 = 50$

③  $10 \times 9 = 90$

④  $10 \times 1 = 10$

⑤  $4 \times 10 = 40$

⑥  $7 \times 10 = 70$

⑦  $2 \times 10 = 20$

⑧  $8 \times 10 = 80$

【7】 ( ) にあてはまる数を書きましょう。

①  $5 \times (7) = 35$

②  $2 \times (6) = 12$

③  $3 \times (9) = 27$

④  $8 \times (5) = 40$

⑤  $6 \times (9) = 54$

⑥  $4 \times (7) = 28$

⑦  $7 \times (8) = 56$

⑧  $8 \times (6) = 48$

⑨  $1 \times (9) = 9$

⑩  $9 \times (9) = 81$

【8】 ( ) にあてはまる数を書きましょう。

①  $(3) \times 7 = 21$

②  $(3) \times 9 = 27$

③  $(5) \times 4 = 20$

④  $(6) \times 2 = 12$

⑤  $(9) \times 5 = 45$

⑥  $(4) \times 8 = 32$

⑦  $(7) \times 7 = 49$

⑧  $(6) \times 3 = 18$

⑨  $(7) \times 1 = 7$

⑩  $(7) \times 6 = 42$